

- ① Toate subiectele sunt obligatorii.
- ② Timpul efectiv de lucru este de 50 de minute.
- ③ Cerințele vor fi citite de învățător.

PUNCTAJ:


PREMIU:

NUME ELEV:

MENTOR/ȘCOALĂ:

Citește cu atenție enunțurile, apoi bifează în grilă răspunsurile corecte:

- 1 Privește imaginea. Câte grupe de 4 albinuțe se pot forma?




A. 1

B. 2

C. 3

D. niciuna

- 2 Al șaselea animal din șir este:




A. lup

B. vulpe

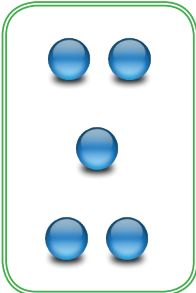
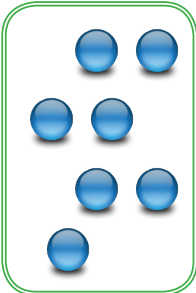
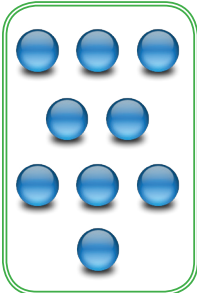
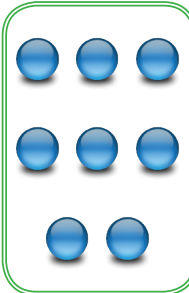
C. urs

D. iepure

- 3 Găsește ce nu se potrivește!



4 Încercuiește grupa cu cele mai multe bile.

A.  B.  C.  D. 

5 Pe ultima frunză vei scrie...

A.  B.  C.  D. 


A. 3 B. 2 C. 1 D. 0

6 Privește șirul următor. Ce număr ascunde iepurașul?

1 3 5  9


A. 6 B. 8 C. 7 D. 4

7 Câte steluțe trebuie să mai desenezi pentru ca mulțimea să aibă 10 elemente?



- A. 2 B. 3 C. 4 D. 5

8 Încercuiește toate numerele mai mici decât 6.






Ai găsit:

- A. 4 numere B. 5 numere C. 6 numere D. 7 numere

9 În mulțimea de mai jos, imaginea care apare de cele mai multe ori este:



- A.  B.  C.  D. 