

- ① Toate subiectele sunt obligatorii.
 ② Timpul efectiv de lucru este de 50 de minute.
 ③ Cerințele vor fi citite de învățător.

PUNCTAJ:

PREMIU:

NUME ELEV:

MENTOR/ȘCOALĂ:

Citește cu atenție enunțurile, apoi bifează în grilă răspunsurile corecte:

1. Încercuiește floarea care are cele mai multe petale.



2. Ce număr se ascunde sub fiecare floare?

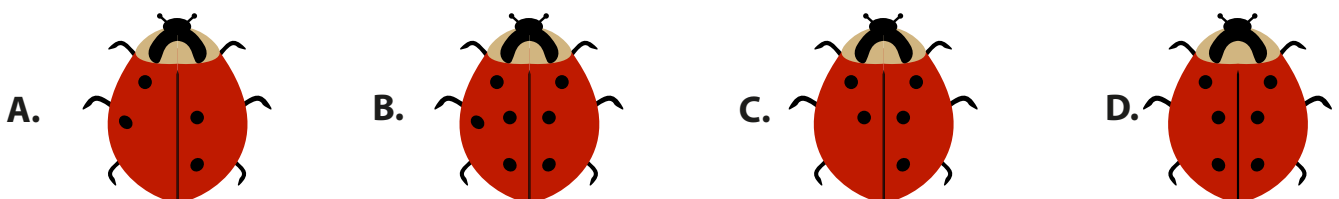
$$16 < \text{flower} < 18$$

$$21 > \text{flower} > 19$$



$$13 = \text{flower}$$

- A. 19, 20, 12 B. 17, 20, 13 C. 15, 22, 13 D. 19, 23, 14

3. Adaugă buline buburuzelor, astfel încât fiecare buburuză să aibă câte 9 buline. Încercuiește apoi buburuza căreia i-ai adăugat cele mai puține buline.



4. Unește albinuțele cu florile corespunzătoare.



Albinuța care lipsește este:

A. 3

B. 4

C. 5

D. 6

5. Doi cocoși și un cățel
Stau în curtea lui Costel.
Spune tu acum, de vrei,
Câte picioare au cei trei.



A. 6

B. 7

C. 8

D. 5

6. Irina îi aduce mamei de ziua ei 3 lalele galbene, 4 lalele roșii și 2 lalele albe.
Câte lalele a primit mama de la Irina?



A. 6

B. 9

C. 7

D. 4

7. Pe o ramură sunt 10 vrăbiuțe. Trei dintre ele au zburat.

Pe ramură au mai rămas vrăbiuțe.



A. 7

B. 8

C. 6

D. 5

8. Operația care are rezultatul greșit este:

A. $7 + 2 = 9$

B. $10 - 4 = 6$

C. $9 - 7 = 3$

D. $4 + 5 = 9$

9. Calculează, apoi ordonează crescător rezultatele:

$5 + 3$

$8 - 4$

$9 - 2$

$7 + 3$

$4 + 5$

Ordinea corectă este:

A. 4, 8, 7, 10, 9

B. 7, 8, 9, 10, 4

C. 4, 7, 8, 9, 10

D. 10, 9, 7, 8, 4