

CONCURSUL ȘCOLAR NAȚIONAL DE COMPETENȚĂ ȘI PERFORMANȚĂ COMPER  
 EDIȚIA 2022-2023 / ETAPA I – 20 ianuarie 2023  
 COMPER – MATEMATICĂ  
 CLASA PREGĂTITOARE

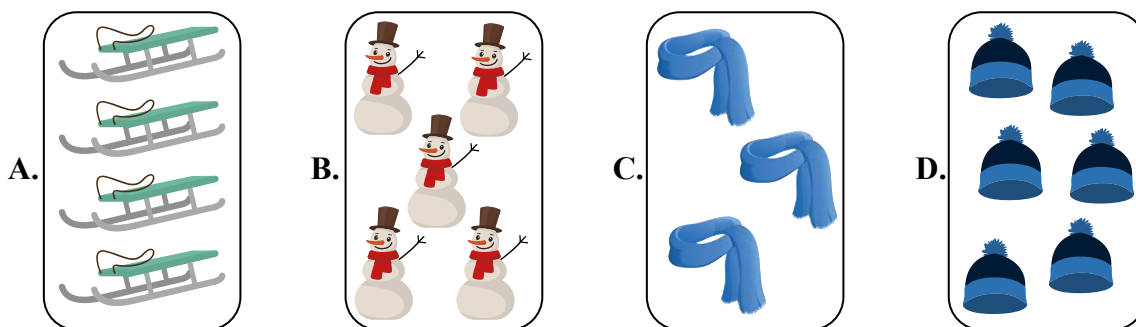
Numele: .....  
 Prenumele:.....  
 Școala:..... / Clasa: .....  
 Codul C.I.C. (codul de identificare Comper) al elevului:.....  
 Codul C.I.C. (codul de identificare Comper) al profesorului mentor:.....

- Toate subiectele sunt obligatorii.
- Timpul efectiv de lucru este de 50 de minute.
- Cerințele vor fi citite de învățător/supraveghetor.

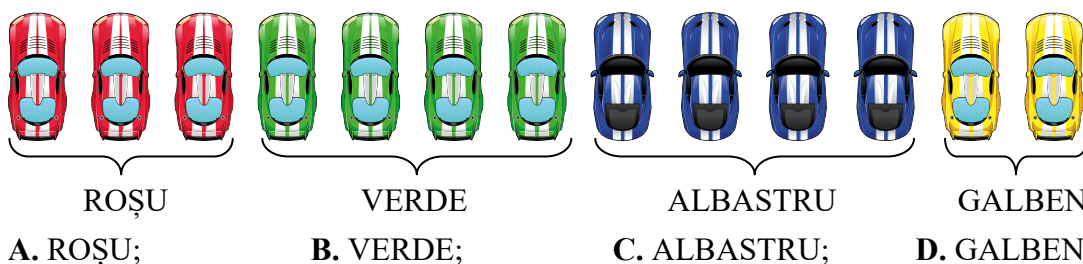
Ascultă cu atenție enunțurile, apoi bifează în grilă răspunsurile corecte.

**STANDARD**

1. CARE ESTE MULȚIMEA CARE ARE 5 ELEMENTE?



2. CE CULOARE ARE A ZECEA MAȘINUȚĂ?



3. URSULEȚII AȘTEAPTĂ CADOURI.



CÂȚI URSULEȚI NU AU PRIMIT ÎNCĂ UN CADOU?  
 A. 1; B. 2; C. 3; D. 4.

4. CÂTE DINTRE ANIMALELE DE MAI JOS TRĂIESC ÎN PĂDURE?




- A. 1 ANIMAL;      B. 2 ANIMALE;      C. 5 ANIMALE;      D. 4 ANIMALE.

5. VECINII URSULEȚULUI LOCUIESC ÎN CĂSUȚELE CU NUMERELE:



- A. 1 ȘI 7;      B. 2 ȘI 4;      C. 2 ȘI 9;      D. 6 ȘI 5.

6. IMAGINEA CARE REPREZINTĂ ANOTIMPUL IARNA ESTE:



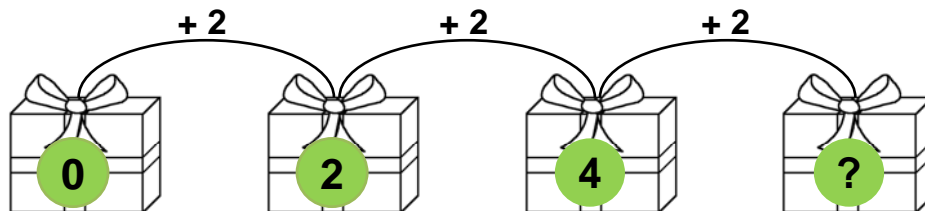
7. AȘAZĂ ÎN ORDINE DESCRESCĂTOARE SĂNIUȚELE.



- A. 10, 9, 6, 3, 2;      B. 10, 6, 9, 3, 2;      C. 2, 3, 10, 6, 9;      D. 2, 10, 3, 6, 9.

## EXCELENȚĂ

8. CARE ESTE NUMĂRUL CARE URMEAZĂ ÎN ȘIR?



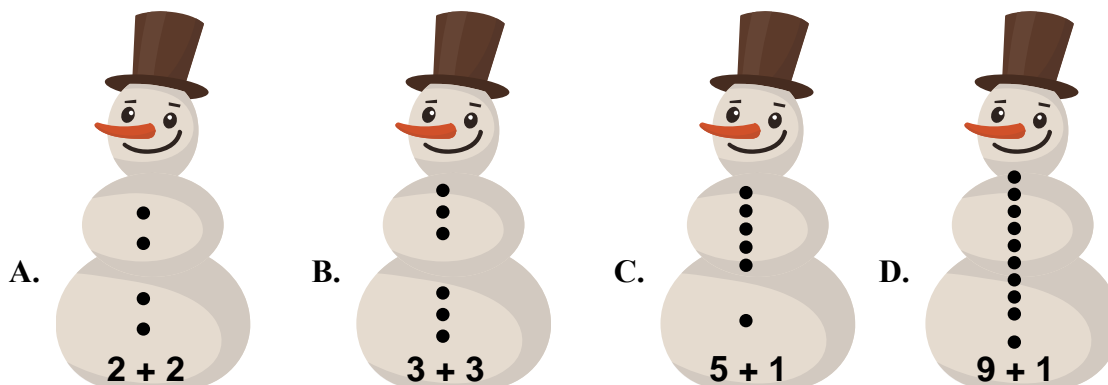
A. 2;

B. 10;

C. 8;

D. 6.

9. OMUL DE ZĂPADĂ CARE ARE CEI MAI MULȚI NASTURI ESTE:



Itemii 1-7 se notează cu câte 10 puncte fiecare; itemii 8-9 se notează cu câte 15 puncte fiecare.  
 Total: 100 de puncte.