

CONCURSUL ȘCOLAR NAȚIONAL DE COMPETENȚĂ ȘI PERFORMANȚĂ COMPER  
 EDIȚIA 2022-2023 / ETAPA a II-a – 28 aprilie 2023  
 COMPER – MATEMATICĂ  
 CLASA PREGĂTITOARE

Numele: .....  
 Prenumele:.....  
 Școala:..... / Clasa: .....  
 Codul C.I.C. (codul de identificare Comper) al elevului:.....  
 Codul C.I.C. (codul de identificare Comper) al profesorului mentor:.....

- Toate subiectele sunt obligatorii.
- Timpul efectiv de lucru este de 50 de minute.
- Cerințele vor fi citite de învățător/supraveghetor.

Ascultă cu atenție enunțurile, apoi bifează în grilă răspunsurile corecte.

**STANDARD**

1. DESCOPERĂ REGULA ȘI COMPLETEAZĂ CU ÎNCĂ TREI ELEMENTE.




- A. ZAMBILĂ, LALEA, TRANDAFIR;      B. TRANDAFIR, TRANDAFIR, ZAMBILĂ;  
 C. ZAMBILĂ, TRANDAFIR, LALEA;      D. LALEA, LALEA, ZAMBILĂ.

2. CÂTE GRUPE DE CÂTE TREI BUBURUZE SE POT FORMA?




- A. 4;      B. 3;      C. 5;      D. 2.


3. BIFEAZĂ DESENUL ÎN CARE ALBINA ESTE DEASUPRA FLORII.




1



2



3



4

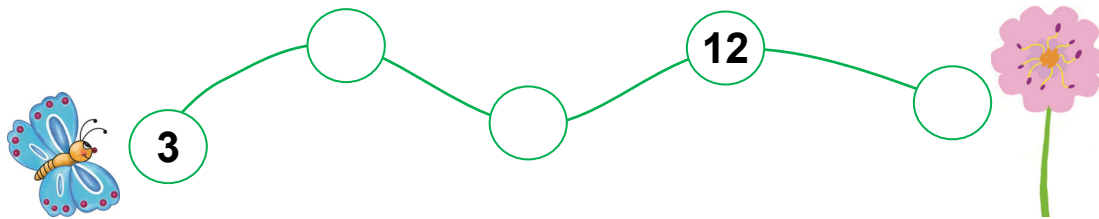
- A. 1;      B. 2;      C. 3;      D. 4.

4. NUMERELE ASCUNSE DE FLORICICĂ SUNT:

$$10 < \text{floricică} < 14$$

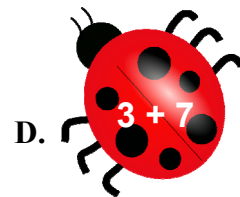


- A. 11, 12, 13;      B. 10, 11, 12;      C. 12, 13, 14;      D. 10, 11, 15.

5. DESCOPERĂ REGULA ȘI AJUTĂ FLUTURAȘUL SĂ AJUNGĂ LA FLOARE.



- A. 6, 10, 8;      B. 6, 9, 15;      C. 6, 10, 12;      D. 12, 14, 16.

6. CARE EXERCITIU NU ARE REZULTATUL 10?





7. ALBINUȚA MAIA SE ALĂTURĂ CELOR 6 PRIETENE ALE EI. ÎMPREUNĂ SUNT ACUM ... ALBINE.



- A. 5;      B. 8;      C. 7;      D. 6.

## EXCELENȚĂ

8. MARIA A CULES 3 GHIOCEI, 4 LALELE ȘI 2 NARCISE. CÂTE FLORI A CULES MARIA?



A. 7;

B. 9;

C. 11;

D. 8.

9. DIN CEI 15 FLUTURAȘI, AU ZBURAT 3. CÂȚI FLUTURAȘI AU RĂMAS?



A. 9;

B. 10;

C. 11;

D. 12.

Itemii 1-7 se notează cu câte 10 puncte fiecare; itemii 8-9 se notează cu câte 15 puncte fiecare.  
Total: 100 de puncte.