

Examenul de bacalaureat național 2020
Proba E. d)
Geografie

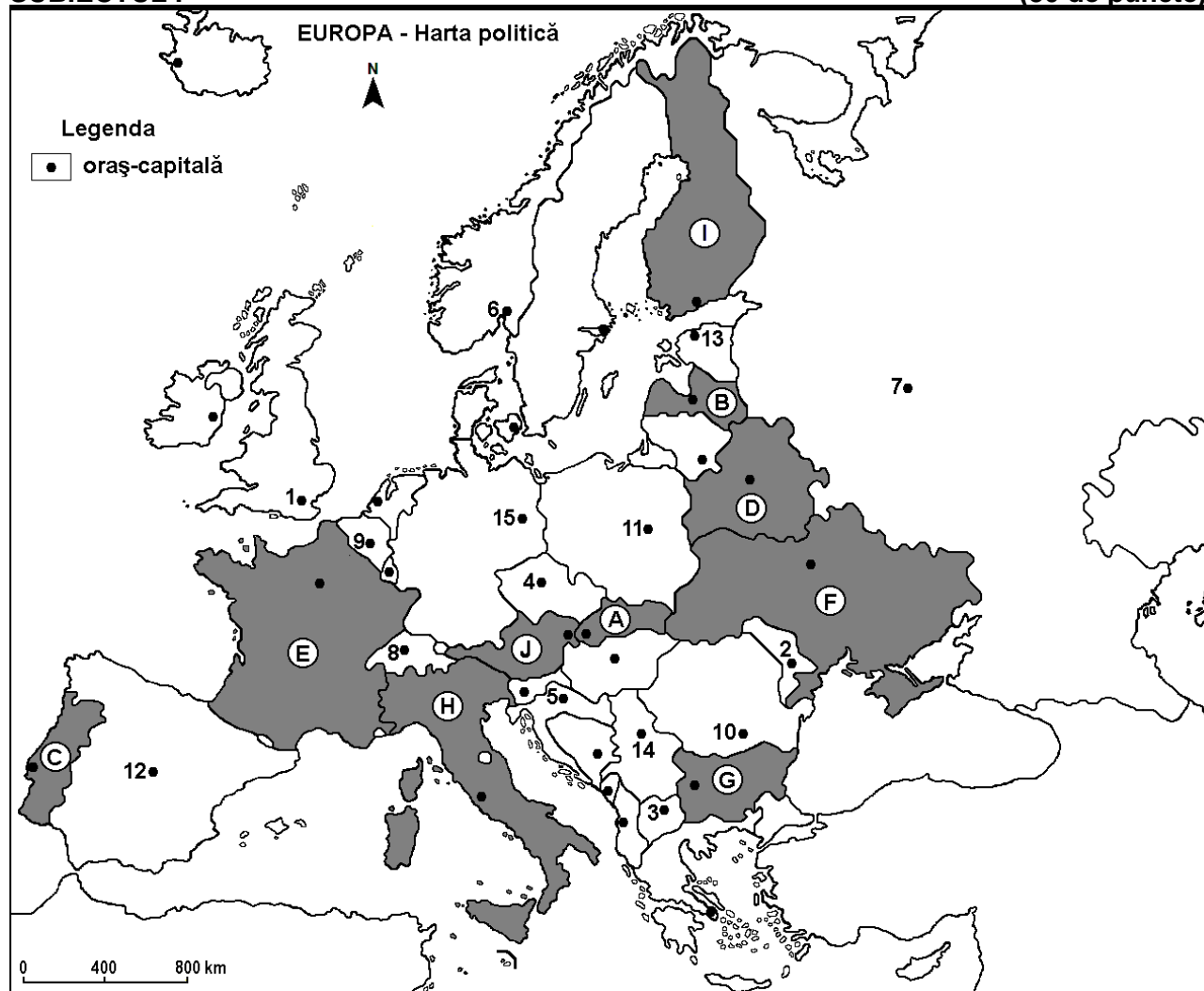
Test 19

Profilul umanist din filiera teoretică, profilul servicii din filiera tehnologică și toate profilurile și specializările din filiera vocațională, cu excepția profilului militar

- Toate subiectele sunt obligatorii. Se acordă 10 puncte din oficiu.
- Timpul de lucru efectiv este de 3 ore.

SUBIECTUL I

(30 de puncte)



Harta de mai sus se referă la subiectul I A – D. Pe hartă sunt marcate state cu litere și orașe - capitală cu numere.

A. Precizați:

1. numele statului marcat, pe hartă, cu litera **C**;
2. numele orașului-capitală marcat, pe hartă, cu numărul **7**.

4 puncte

B. Scrieți, pe foaia de examen, răspunsurile corecte care completează afirmațiile de mai jos:

1. Skopje este orașul-capitală marcat, pe hartă, cu numărul ...
2. Statul marcat, pe hartă, cu litera **J** se numește ...
3. Orașul-capitală marcat, pe hartă, cu numărul **15** se numește ...

6 puncte

C. Scrieți, pe foaia de examen, litera corespunzătoare răspunsului corect pentru fiecare dintre afirmațiile de mai jos:

1. Orașul Minsk este capitala statului marcat, pe hartă, cu litera:

a. B

b. D

c. G

d. I

2 puncte

2. Orașul marcat, pe hartă, cu numărul 4 este capitala statului:
a. Austria b. Cehia c. Slovacia d. Slovenia 2 puncte
3. Capitala statului marcat, pe hartă, cu litera B se numește:
a. Riga b. Stockholm c. Tallinn d. Vilnius 2 puncte
4. Statul marcat, pe hartă, cu litera I este situat în Peninsula:
a. Balcanică b. Iberică c. Italică d. Scandinavă 2 puncte
5. Statele marcate, pe hartă, cu literele E, H și J au în comun:
a. Munții Alpi b. Munții Pirinei c. fluviul Rin d. fluviul Dunărea 2 puncte

D. Precizați trei deosebiri între **clima** statului marcat, pe hartă, cu litera F și **clima** statului marcat, pe hartă, cu litera H.

Nota 1: Deosebirile se pot referi la oricare dintre următoarele elemente de **climă**: factori genetici, tip de climă, temperaturi medii anuale/vara/iarna, amplitudine termică, precipitații medii anuale/vara/iarna, vânturi cu frecvență ridicată.

Nota 2: Punctajul complet va fi acordat numai dacă deosebirile vor fi prezentate comparativ și nu separat. 6 puncte

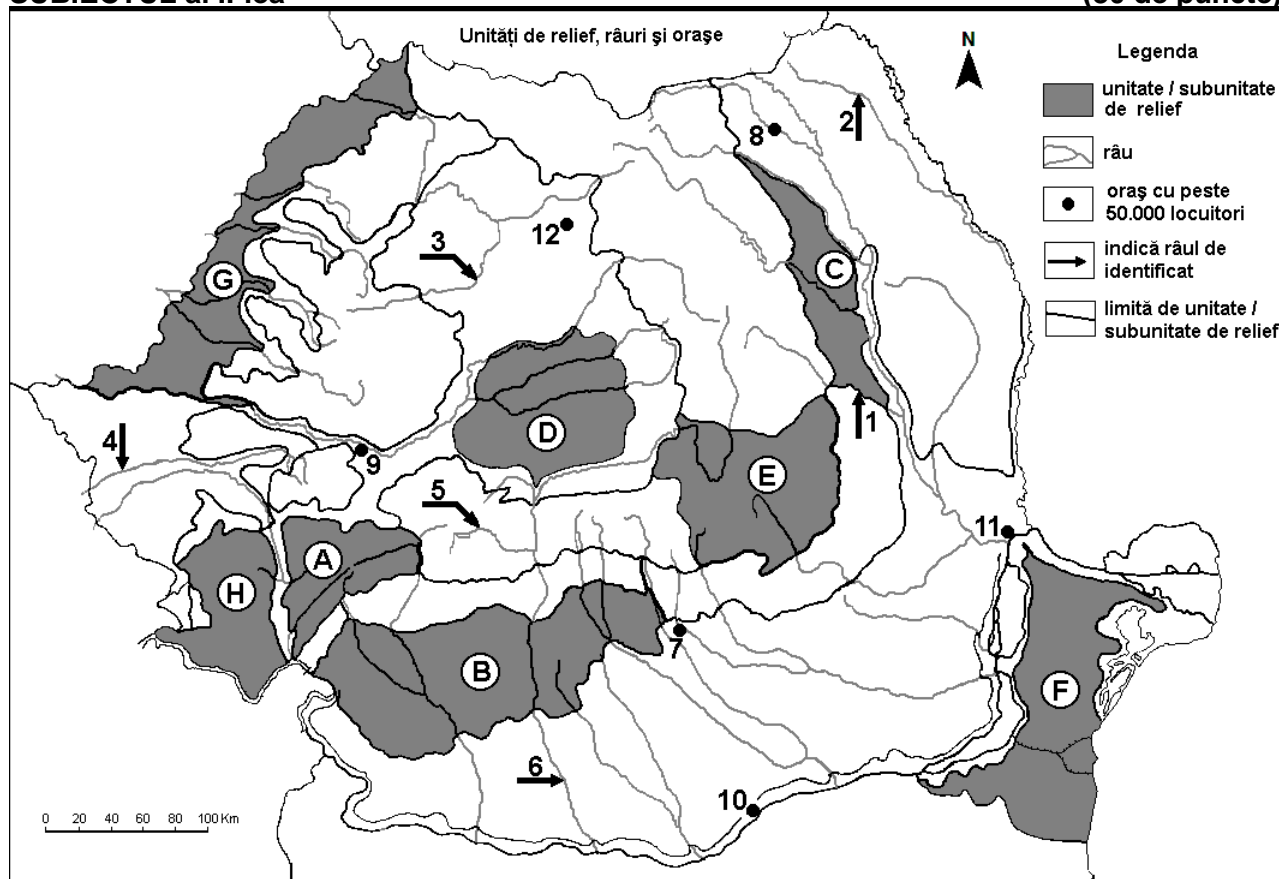
E. Prezentați o cauză:

1. a diferențelor mici de temperatură dintre vară și iarnă în climatul temperat-oceanic.
2. a prezenței reliefului glacial în Peninsula Scandinavă.

4 puncte

SUBIECTUL al II-lea

(30 de puncte)



Harta de mai sus se referă la subiectul II A – E. Pe hartă sunt marcate unități de relief cu litere, râuri cu numere de la 1 la 6 și orașe cu numere de la 7 la 12.

A. Precizați:

1. numele orașului marcat, pe hartă, cu numărul 11;
2. numele râului marcat, pe hartă, cu numărul 1.

4 puncte

B. Scrieți, pe foaia de examen, răspunsurile corecte care completează afirmațiile de mai jos:

1. Munții Retezat se află în subunitatea de relief marcată, pe hartă, cu litera ...

2. Orașul marcat, pe hartă, cu numărul **10** se numește ...

3. Râul marcat, pe hartă, cu numărul **2** se numește ...

6 puncte

C. Scrieți, pe foaia de examen, litera corespunzătoare răspunsului corect pentru fiecare dintre afirmațiile de mai jos:

1. Influențe climatice oceanice pătrund în subunitatea de relief marcată, pe hartă, cu litera:

a. B

b. C

c. F

d. G

2 puncte

2. Râul marcat, pe hartă, cu numărul **5**:

a. este amenajat hidroenergetic

b. izvorăște din Grupa Făgăraș

c. străbate Subcarpații Getici

d. străbate un bazin carbonifer

2 puncte

3. Orașul marcat, pe hartă, cu numărul **8** se numește:

a. Botoșani

b. Iași

c. Piatra Neamț

d. Suceava

2 puncte

4. Râul marcat, pe hartă, cu numărul **3** străbate orașul:

a. Baia Mare

b. Bistrița

c. Cluj-Napoca

d. Zalău

2 puncte

5. Petrol, gaze naturale și cărbuni se exploatează din unitatea de relief marcată, pe hartă, cu litera:

a. A

b. B

c. D

d. F

2 puncte

D. Precizați trei deosebiri între **relieful** unității marcate, pe hartă, cu litera **C** și **relieful** unității marcate, pe hartă, cu litera **H**.

Nota 1: Deosebirile se pot referi la oricare dintre următoarele aspecte ale **reliefului**: mod de formare, tipuri de roci pe care s-a format relieful, altitudini, gradul de fragmentare, tipuri genetice de relief, orientarea culmilor și a văilor principale, dispunerea depresiunilor, alte aspecte specifice ale reliefului.

Nota 2: Punctajul complet va fi acordat numai dacă deosebirile vor fi prezentate comparativ și nu separat.

6 puncte

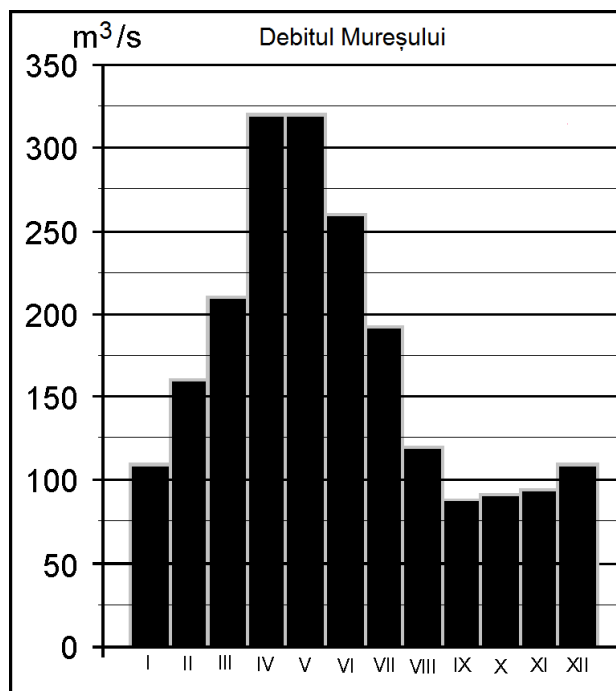
E. Prezentați două cauze ale absenței amenajărilor hidroenergetice pe râurile care străbat unitatea de relief marcată, pe hartă, cu litera **F**.

4 puncte

SUBIECTUL al III-lea

(30 de puncte)

Reprezentarea grafică de mai jos se referă la subiectul **III A - B** și prezintă evoluția debitelor medii lunare ale râului Mureș.



A. Precizați:

1. valoarea maximă lunară a debitului și lunile în care se înregistrează;

2. luna în care se înregistrează cea mai scăzută valoare a debitului.

4 puncte

- B. 1.** Calculați diferența dintre debitul maxim și debitul minim.
2. Prezentați două cauze care determină valorile ridicate ale debitului la sfârșitul primăverii și începutul verii.

6 puncte

C. Pentru **Podișul Târnavelor**, precizați:

1. numele unității majore de relief din care face parte;
2. modul de formare;
3. un tip de roci din care este alcătuit;
4. o influență climatică;
5. numele a trei râuri care îl străbat sau îl limitează;
6. o resursă de subsol;
7. numele a două orașe-reședință de județ (cu peste 50.000 de locuitori) situate la contactul cu alte unități sau subunități de relief.

10 puncte

D. Se da următorul tabel:

Statul	Anul	Imigranți (persoane)	Emigranți (persoane)
Regatul Unit al Marii Britanii și Irlandei de Nord	2005	565.000	380.000
Polonia	2005	70.300	322.200

1. Calculați bilanțul migratoriu pentru Regatul Unit al Marii Britanii și Irlandei de Nord.
2. Calculați bilanțul migratoriu pentru Polonia.
3. Prezentați o cauză a valorii bilanțului migratoriu în Polonia.

6 puncte

E. Prezentați două argumente care să demonstreze faptul că Spania dispune de un important potențial turistic.

4 puncte