

Examenul național de bacalaureat 2023  
Simulare județeană  
Proba E. d)  
Geografie

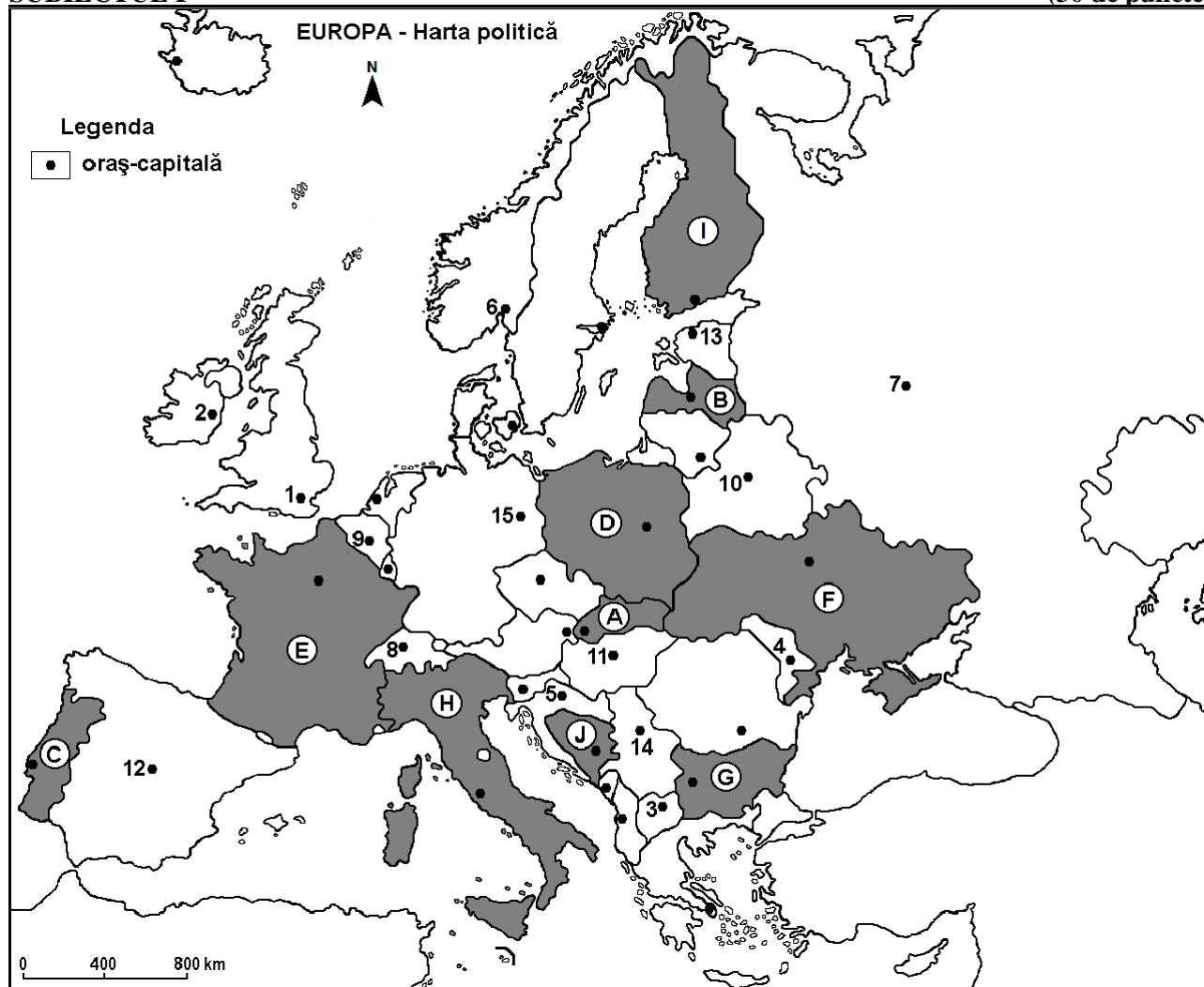
Varianta 1

*Profilul umanist din filiera teoretică, profilul servicii din filiera tehnologică și toate profilurile și specializările din filiera vocațională, cu excepția profilului militar*

- Toate subiectele sunt obligatorii. Se acordă zece puncte din oficiu.
- Timpul de lucru efectiv este de trei ore.

**SUBIECTUL I**

(30 de puncte)



Harta de mai sus se referă la subiectul I A – D. Pe hartă sunt marcate state cu litere și orașe-capitală cu numere.

A. Precizați:

1. numele orașului-capitală marcat, pe hartă, cu numărul 7;
2. numele statului marcat, pe hartă, cu litera B.

**4 puncte**

B. Scrieți, pe foaia de examen, răspunsurile corecte care completează afirmațiile de mai jos:

1. Orașul-capitală marcat, pe hartă, cu numărul 1 se numește ...
2. Statul marcat, pe hartă, cu litera A se numește ...
3. Bruxelles este orașul-capitală marcat, pe hartă, cu numărul ...

**6 puncte**

C. Scrieți, pe foaia de examen, litera corespunzătoare răspunsului corect pentru fiecare dintre afirmațiile de mai jos:

1. Statul marcat, pe hartă, cu litera **J** se numește:
 

a. Bosnia și Herțegovina	b. Croația	c. Muntenegru	d. Slovenia	<b>2 puncte</b>
--------------------------	------------	---------------	-------------	-----------------
2. Fluviul Dunărea străbate orașul-capitală marcat, pe hartă, cu numărul:
 

a. 3	b. 4	c. 5	d. 14	<b>2 puncte</b>
------	------	------	-------	-----------------
3. Orașul-capitală Minsk este marcat, pe hartă, cu numărul:
 

a. 7	b. 10	c. 13	d. 15	<b>2 puncte</b>
------	-------	-------	-------	-----------------
4. Munții Stara Planina (Balcani) se află în statul marcat, pe hartă, cu litera:
 

a. A	b. F	c. G	d. H	<b>2 puncte</b>
------	------	------	------	-----------------
5. Orașul-capitală marcat, pe hartă, cu numărul 6 se numește:
 

a. Copenhaga	b. Helsinki	c. Oslo	d. Stockholm	<b>2 puncte</b>
--------------	-------------	---------	--------------	-----------------

D. Prezentați trei deosebiri între **clima** statului marcat, pe hartă, cu litera **E** și **clima** statului marcat, pe hartă, cu litera **F**.

*Nota 1: Deosebirile se pot referi la oricare dintre următoarele elemente de climă: factori genetici, tip de climă, temperaturi medii anuale/vara/iarna, amplitudine termică, precipitații medii anuale/vara/iarna, vânturi cu frecvență ridicată, alte aspecte climatice.*

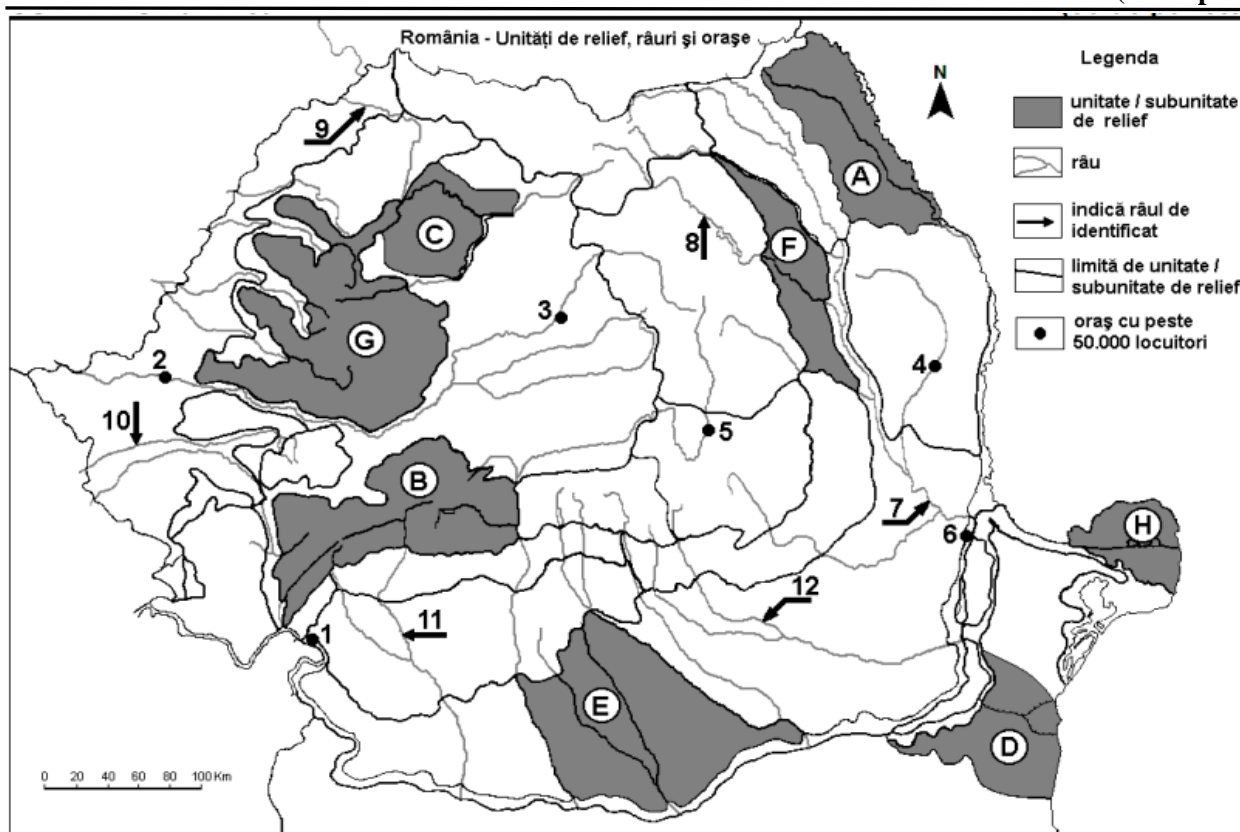
*Nota 2: Punctajul complet va fi acordat numai dacă deosebirile vor fi prezentate comparativ și nu separat.*

*Nota 3: Nu este necesară precizarea numelor statelor, se poate face referire la statele respective cu literele cu care sunt marcate pe hartă.* **6 puncte**

E. Prezentați două cauze care determină distribuția inegală a populației pe teritoriul Europei. **4 puncte**

## SUBIECTUL al II-lea

(30 de puncte)



Harta de mai sus se referă la subiectul II A – D. Pe hartă sunt marcate unități de relief cu litere, orașe cu numere de la 1 la 6 și râuri cu numere de la 7 la 12.

A. Precizați:

1. numele orașului marcat, pe hartă, cu numărul 1;
2. numele râului marcat, pe hartă, cu numărul 7.

**4 puncte**

**B.** Scrieți, pe foaia de examen, răspunsurile corecte care completează afirmațiile de mai jos:

1. Munții Parâng se află în unitatea de relief marcată, pe hartă, cu litera ...
2. Orașul marcat, pe hartă, cu numărul 3 se numește ...
3. Râul marcat, pe hartă, cu numărul 9 se numește ...

**6 puncte**

**C.** Scrieți, pe foaia de examen, litera corespunzătoare răspunsului corect pentru fiecare dintre afirmațiile de mai jos:

1. Influențe climatice pontice pătrund în unitatea de relief marcată, pe hartă, cu litera:
 

a. A	b. B	c. D	d. G	
------	------	------	------	--
2. Râul marcat, pe hartă, cu numărul 8:
 

a. este amenajat hidroenergetic	b. izvorăște din Carpații Curburii	
c. se varsă în râul Prut	d. străbate orașul Miercurea Ciuc	<b>2 puncte</b>
3. Orașul marcat, pe hartă, cu numărul 2 se numește:
 

a. Arad	b. Oradea	c. Reșița	d. Timișoara	
---------	-----------	-----------	--------------	--
4. Râul marcat, pe hartă, cu numărul 11 străbate orașul:
 

a. Alexandria	b. Craiova	c. Ploiești	d. Slatina	
---------------	------------	-------------	------------	--
5. Minereuri auro-argintifere se exploatează din unitatea de relief marcată, pe hartă, cu litera:
 

a. A	b. B	c. G	d. H	
------	------	------	------	--

**D.** Prezențați trei deosebiri între **relieful** unității marcate, pe hartă, cu litera **E** și **relieful** unității marcate, pe hartă, cu litera **F**.

*Nota 1: Deosebirile se pot referi la oricare dintre următoarele aspecte ale reliefului: mod de formare, categorii/tipuri de roci pe care s-a format relieful, altitudini, gradul de fragmentare, trepte de relief, tipuri genetice de relief, orientarea culmilor și a văilor principale, dispunerea depresiunilor, alte aspecte specifice ale reliefului.*

*Nota 2: Punctajul complet va fi acordat numai dacă cele trei deosebiri vor fi prezentate comparativ și nu separat.*

*Nota 3: Nu este necesară precizarea numelor unităților de relief, se poate face referire la unitățile de relief respective cu literele cu care sunt marcate pe hartă.*

**6 puncte**

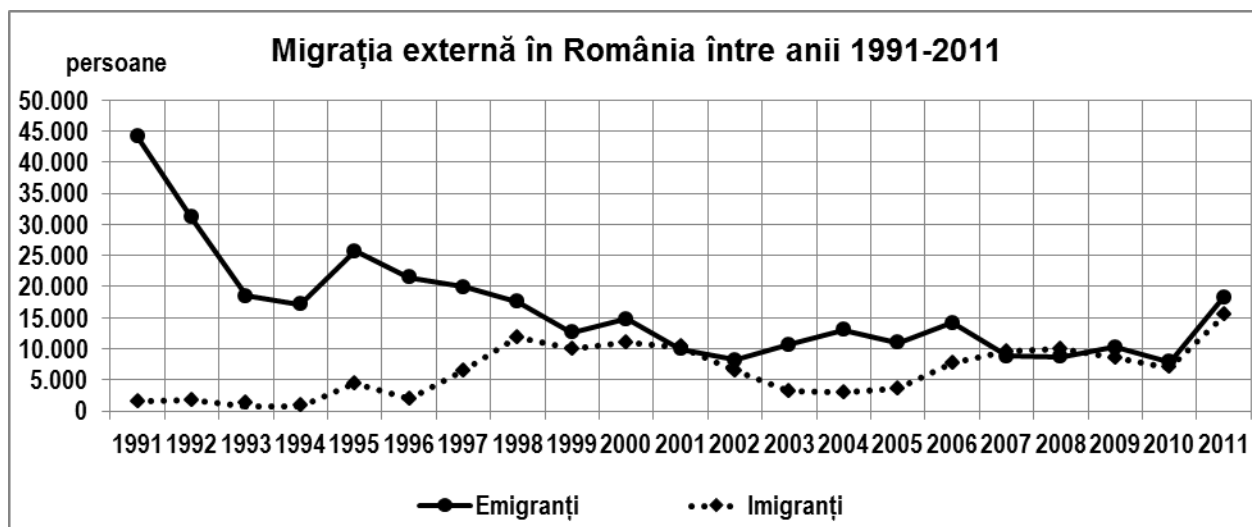
**E.** Prezențați două cauze care determină diversitatea vegetației pe teritoriul României.

**4 puncte**

### SUBIECTUL al III-lea

**(30 de puncte)**

Reprezentarea grafică de mai jos se referă la subiectul III A-B și prezintă evoluția migrației externe specifice României între anii 1991-2011.



**A.** Precizați:

1. numărul maxim de imigranți și anul în care a fost înregistrat;
2. numărul maxim de emigranți și anul în care a fost înregistrat.

**4 puncte**

- B. 1.** Calculați bilanțul migratoriu pentru anul 2001.  
**2.** Precizați o cauză care a determinat scăderea bilanțului migratoriu după anul 1991.  
**3.** Precizați două efecte social-economice ale numărului mare de emigranți.

**6 puncte**

**C.** Pentru **Peninsula Italică**, precizați:

1. numele a două unități de relief;
2. un tip de climă și o caracteristică a acestuia;
3. o zonă/tip de vegetație;
4. numele a trei orașe;
5. numele a două state.

**10 puncte**

**D.** Tabelul de mai jos prezintă valorile temperaturilor medii lunare în ianuarie și iulie, precum și temperatura medie anuală la două stații meteorologice din România.

Stația meteorologică și altitudinea	Temperatura medie în ianuarie	Temperatura medie în iulie	Temperatura medie anuală
Craiova, 192 m	- 2,0°C	22,2°C	10,7°C
Satu Mare, 124 m	-2,8°C	20,1°C	9,5°C

*Sursa: Clima României, 2008, Editura Academiei Române*

1. Calculați valoarea amplitudinii termice anuale pentru Craiova.
2. Calculați valoarea amplitudinii termice anuale pentru Satu Mare.
3. Explicați faptul că la Craiova temperatura medie anuală este mai mare decât la Satu Mare.

**6 puncte**

**E.** Explicați:

1. faptul că în Islanda pădurile ocupă suprafețe extrem de reduse.
2. faptul că în Marea Neagră viețuitoarele lipsesc la adâncimi mai mari de 200 m.

**4 puncte**